


# 14. tjedan nastave: Analitička geometrija prostora.

*Franka Miriam Brückler*

---



U analitičkog geometriji u ravnini se pomoću koordinata (uređenih parova realnih brojeva) proučavaju točke jedne ravnine i njihovi jednodimenzionalni skupovi: pravci, krivulje drugog reda, ... U trodimenzionalnom prostoru pojavljuju se i dvodimenzionalni podskupovi — plohe. Najvažnije plohe u prostoru zovu se ravnine. Objekti u prostoru opisuju se s jednom ili više jednadžbi s tri nepoznanice, koje predstavljaju koordinate točaka pojedinog objekta.

Da bismo se mogli baviti analitičkom geometrijom prostora, potrebno je prvo odabrati **koordinatni sustav**, tj. ishodište i bazu prostora. **Koordinatne osi** su brojevni pravci kroz  $O$  kojima se smjerovi redom podudaraju sa smjerovima vektora odabrane baze. **Koordinatne ravnine** su ravnine određene s po dvije koordinatne osi. Ako je kao baza odabrana desna ortonormirana baza govorimo o **Kartezijevom koordinatnom sustavu** u prostoru.

## Udaljenost dviju točaka i polovište dužine

Za dvije točke  $T(x, y, z)$  i  $T'(x'y', z')$  njihova **udaljenost**  $d(T, T')$  jednaka je duljini vektora  $\overrightarrow{TT'}$ , a ona je prema prethodnom jednaka  $\sqrt{\overrightarrow{TT'} \cdot \overrightarrow{TT'}}$ .

Ako je odabrani koordinatni sustav Kartezijev, dobiva se:

$$d(T, T') = \sqrt{(x' - x)^2 + (y' - y)^2 + (z' - z)^2}.$$

**Polovište dužine**  $\overline{TT'}$  ima koordinate

$$\left( \frac{x + x'}{2}, \frac{y + y'}{2}, \frac{z + z'}{2} \right).$$

# Jedna linearna jednadžba

Standardne oznake:  $x$  – apscisa,  $y$  – ordinata,  $z$  – aplikata.

Jednadžba  $x = 0$  opisuje sve točke kojima je apscisa 0, dakle u ravnini predstavlja os ordinata, ali u prostoru predstavlja

$(y, z)$ -ravninu. Analogno, jednadžba  $y = 0$  u ravnini predstavlja os apscisa, a u prostoru  $(x, z)$ -ravninu. Jednadžba  $z = 0$  u prostoru predstavlja  $(x, y)$ -ravninu. Što u prostornom koordinatnom sustavu predstavlja jednadžba  $x = -2$ ?

# Jedna linearna jednadžba

Standardne oznake:  $x$  – apscisa,  $y$  – ordinata,  $z$  – aplikata.

Jednadžba  $x = 0$  opisuje sve točke kojima je apscisa 0, dakle u ravnini predstavlja os ordinata, ali u prostoru predstavlja  $(y, z)$ -ravninu. Analogno, jednadžba  $y = 0$  u ravnini predstavlja os apscisa, a u prostoru  $(x, z)$ -ravninu. Jednadžba  $z = 0$  u prostoru predstavlja  $(x, y)$ -ravninu. Što u prostornom koordinatnom sustavu predstavlja jednadžba  $x = -2$ ?

Pogledajmo sad jednadžbu  $2x - y = 0$  u prostornom kontekstu.

Nju naravno zadovoljavaju sve točke  $(x, y)$ -ravnine koje su na pravcu  $y = 2x$  (u ravninskom koordinatnom sustavu), ali za svaku takvu točku  $(x, y, 0)$  i svaka točka  $(x, y, z)$  zadovoljava  $2x - y = 0$ . Dakle, u prostoru ta jednadžba ne predstavlja pravac, nego ravninu (koja prolazi kroz pravac iste jednadžbe unutar  $(x, y)$ -ravnine, tj. pravac na presjeku ravnina  $2x - y = 0$  i  $z = 0$ ).

# Opća jednađba ravnine u prostoru

Svaka linearna jednađba s tri nepoznanice  $x$ ,  $y$ ,  $z$  opisuje neku ravninu u prostoru, kao što svaka linearna jednađba s dvije nepoznanice  $x$ ,  $y$  opisuje neki pravac u ravnini.

Stoga jednađbu oblika

$$Ax + By + Cz = D$$

nazivamo **općom jednađbom ravnine**.

U ravnini se nalaze točno one točke čije koordinate zadovoljavaju jednađbu ravnine.

Sve jednađbe koje se iz jednađbe ravnine mogu dobiti njenim množenjem s brojem različitim od nule predstavljaju istu ravninu.

Koeficijenti  $A$ ,  $B$  i  $C$  povezani su s nagibom ravnine prema koordinatnim osima, a  $D$  s udaljenosti ravnine od ishodišta.

## Zadatak

*Jednadžbom  $x + y - 2z = 5$  zadana je ravnina. Leži li u njoj ishodište? A točka  $(1, 8, 2)$ ?*

## Zadatak

*Koji uvjet moraju zadovoljavati koeficijenti  $A, B, C, D$  u općoj jednadžbi ravnine da bi se radilo o općoj ravnini koja prolazi kroz ishodište? O općoj ravnini koja je paralelna s osi ordinata? O općoj ravnini koja je paralelna s  $(x, z)$ -ravninom? Ovisе li vaši odgovori o tipu koordinatnog sustava?*

## Zadatak

Jednadžbom  $x + y - 2z = 5$  zadana je ravnina. Leži li u njoj ishodište? A točka  $(1, 8, 2)$ ?

## Zadatak

Koji uvjet moraju zadovoljavati koeficijenti  $A, B, C, D$  u općoj jednadžbi ravnine da bi se radilo o općoj ravnini koja prolazi kroz ishodište? O općoj ravnini koja je paralelna s osi ordinata? O općoj ravnini koja je paralelna s  $(x, z)$ -ravninom? Ovisе li vaši odgovori o tipu koordinatnog sustava?

Skalarni produkt vektora  $\vec{r} = [u, v, w]$  u direktnom prostoru i vektora  $\vec{s}^* = [h, k, l]^*$  u recipročnom prostoru iznosi

$$\vec{r} \cdot \vec{s}^* = uh + vk + wl.$$



## Smjer normale

Neka je dana ravnina s jednadžbom  $Ax + By + Cz = D$ . Ona siječe koordinatne osi<sup>1</sup> u točkama  $P = (\frac{D}{A}, 0, 0)$ ,  $Q = (0, \frac{D}{B}, 0)$ ,  $R = (0, 0, \frac{D}{C})$ . Stoga vektor  $\overrightarrow{PQ} = [-\frac{D}{A}, \frac{D}{B}, 0]$  i  $\overrightarrow{PR} = [-\frac{D}{A}, 0, \frac{D}{C}]$  leže u ravnini. Prema gornjem je


$$\overrightarrow{PQ} \cdot [A, B, C]^* = \overrightarrow{PR} \cdot [A, B, C]^* = 0.$$

Dakle,  $[A, B, C]^*$  je okomit na dva nekolinearna vektora ravnine  $Ax + By + Cz = D$  pa smo dokazali:

### Teorem

*Jedan od vektora normale na ravninu zadanu jednadžbom  $Ax + By + Cz = D$  je  $\vec{n} = A\vec{a}^* + B\vec{b}^* + C\vec{c}^* = [A, B, C]^*$ .*

Posebno, u Kartezijevom koordinatnom sustavu je  $\vec{n} = [A, B, C]$ .

<sup>1</sup>Nećemo dokazivati za slučaj da je ravnina paralelna nekoj od njih. 

## Zadavanje ravnine

Jedan način zadavanja ravnine je trojkom  $[A, B, C]$  (tj. s  $\vec{n} = [A, B, C]^*$ ) i jednom točkom  $T_0 = (x_0, y_0, z_0)$ :

$$A(x - x_0) + B(y - y_0) + C(z - z_0) = 0.$$

### Zadatak

*Odredite jednadžbu ravnine kojoj vektor normale ima smjer  $[2, 3, 4]^*$  i koja sadrži točku  $(1, 1, 1)$ .*

Ravninu možemo zadati i jednom točkom  $(x_0, y_0, z_0)$  te s dva njoj paralelna (međusobno nekolinearna) vektora  $\vec{v} = [v_1, v_2, v_3]$  i  $\vec{w} = [w_1, w_2, w_3]$ . U tom slučaju izračunamo  $\vec{n} = \vec{v} \times \vec{w}$  i tako problem svodimo na prethodni.

Kako odrediti jednadžbu ravnine zadane trima (nekolinearnim) točkama  $T_i = (x_i, y_i, z_i)$ ,  $i = 1, 2, 3$ ?

# Odnos dviju ravnina

Dvije ravnine s jednažbama  $Ax + By + Cz + D = 0$  i  $A'x + B'y + C'z + D' = 0$  su **paralelne** ako su im vektori normala kolinearni, tj. ako vrijedi

$$A : A' = B : B' = C : C'.$$

## Odnos dviju ravnina

Dvije ravnine s jednažbama  $Ax + By + Cz + D = 0$  i  $A'x + B'y + C'z + D' = 0$  su **paralelne** ako su im vektori normala kolinearni, tj. ako vrijedi

$$A : A' = B : B' = C : C'.$$

Dvije ravnine s jednažbama  $Ax + By + Cz + D = 0$  i  $A'x + B'y + C'z + D' = 0$  su **okomite** ako su im vektori normala okomiti, tj. ako je  $\vec{n} \cdot \vec{n}' = 0$ . Za slučaj Kartezijevog koordinatnog sustava to se svodi na uvjet

$$AA' + BB' + CC' = 0.$$

## Odnos dviju ravnina

Dvije ravnine s jednažbama  $Ax + By + Cz + D = 0$  i  $A'x + B'y + C'z + D' = 0$  su **paralelne** ako su im vektori normala kolinearni, tj. ako vrijedi

$$A : A' = B : B' = C : C'.$$

Dvije ravnine s jednažbama  $Ax + By + Cz + D = 0$  i  $A'x + B'y + C'z + D' = 0$  su **okomite** ako su im vektori normala okomiti, tj. ako je  $\vec{n} \cdot \vec{n}' = 0$ . Za slučaj Kartezijevog koordinatnog sustava to se svodi na uvjet

$$AA' + BB' + CC' = 0.$$

Općenito, **kut između ravnina** definira se kao kut  $\varphi$  između njihovih normala:

$$\cos \varphi = \frac{\vec{n} \cdot \vec{n}'}{|\vec{n}| |\vec{n}'|}.$$

## Zadatak

*Odabran je Kartezijev koordinatni sustav. Nađimo ravninu okomitu na ravnine  $x + y + z = 1$  i  $x - y + z = 2$  koja prolazi ishodištem. Koji kut ona zatvara s ravinom jednažbe  $x + y + z = 0$ ?*

---

<sup>2</sup>Segmentni oblik jednažbe ravnine nema smisla za ravnine koje prolaze ishodištem. U matematici se segmentni oblik ne koristi ni ako je ravnina paralelna nekoj od koordinatnih osi, no u primjenama u kristalografiji ga se uz malo proširenje simbolike koristiti i u tim slučajevima. ◀ ◻ ▶ ◀ ◻ ▶ ◀ ≡ ▶ ◀ ≡ ▶ ≡ ↺ ↻

## Zadatak

Odabran je Kartezijev koordinatni sustav. Nađimo ravninu okomitu na ravnine  $x + y + z = 1$  i  $x - y + z = 2$  koja prolazi ishodištem. Koji kut ona zatvara s ravninom jednažbe  $x + y + z = 0$ ?

**Segmentni oblik jednažbe** ravnine je posebni slučaju općeg oblika jednažbe ravnine u kojem slobodni član iznosi 1:<sup>2</sup>

$$\frac{x}{m} + \frac{y}{n} + \frac{z}{p} = 1.$$

Iz tog se oblika direktno vide probodišta koordinatnih osi s ravninom (odsječci  $m$ ,  $n$ ,  $p$ ).

---

<sup>2</sup>Segmentni oblik jednažbe ravnine nema smisla za ravnine koje prolaze ishodištem. U matematici se segmentni oblik ne koristi ni ako je ravnina paralelna nekoj od koordinatnih osi, no u primjenama u kristalografiji ga se uz malo proširenje simbolike koristiti i u tim slučajevima.

## Primjer

$$2x + 5y - 4z = 8 \Leftrightarrow \frac{2}{8}x + \frac{5}{8}y - \frac{4}{5}z = 1 \Leftrightarrow \frac{x}{4} + \frac{y}{8/5} + \frac{z}{-2} = 1$$



## Primjer

$$2x + 5y - 4z = 8 \Leftrightarrow \frac{2}{8}x + \frac{5}{8}y - \frac{4}{5}z = 1 \Leftrightarrow \frac{x}{4} + \frac{y}{8/5} + \frac{z}{-2} = 1$$

## Zadatak

*Koliko iznose stvarne duljine odsječaka ravnine  $2x - 5y + 3z = 15$  na koordinatnim osima, ako je  $a = 1$  m,  $b = 2$  m i  $c = 4$  m,  $\alpha = \beta = \gamma = 90^\circ$ ?*

Općenito, stvarne duljine odsječaka ravnine

$$\frac{x}{m} + \frac{y}{n} + \frac{z}{p} = 1$$

na osima jednake su  $|m| a$ ,  $|n| b$  odnosno  $|p| c$ .

## Primjer

$$2x + 5y - 4z = 8 \Leftrightarrow \frac{2}{8}x + \frac{5}{8}y - \frac{4}{5}z = 1 \Leftrightarrow \frac{x}{4} + \frac{y}{8/5} + \frac{z}{-2} = 1$$

## Zadatak

*Koliko iznose stvarne duljine odsječaka ravnine  $2x - 5y + 3z = 15$  na koordinatnim osima, ako je  $a = 1$  m,  $b = 2$  m i  $c = 4$  m,  $\alpha = \beta = \gamma = 90^\circ$ ?*

Općenito, stvarne duljine odsječaka ravnine

$$\frac{x}{m} + \frac{y}{n} + \frac{z}{p} = 1$$

na osima jednake su  $|m| a$ ,  $|n| b$  odnosno  $|p| c$ .

Kako biste opisali  $x$ -os pomoću jedne ili više jednadžbi?  $y$ -os?  $z$ -os? Kako biste opisali pravac kroz ishodište koji leži u  $(y, z)$ -koordinatnoj ravnini?

# Pravci u prostoru

Pravac u prostoru određen je svojim smjerom (tj. bilo kojim njemu paralelnim vektorom smjera  $i$  jednom točkom.

**Parametarske jednadžbe pravca** s vektorom smjera  $\vec{s} = [u, v, w]$  koji prolazi točkom  $(x_0, y_0, z_0)$  su oblika

$$x = x_0 + ut,$$

$$y = y_0 + vt,$$

$$z = z_0 + wt,$$

$$t \in \mathbb{R}.$$

Umjesto točkom  $i$  vektorom smjera, pravac može biti zadan  $i$  s dvije točke. U tom slučaju mu je vektor smjera vektor koji spaja te dvije točke, a bilo koju od njih uzmemo kao  $(x_0, y_0, z_0)$ .

Skraćeni zapis parametarskih jednadžbi pravca, koji bismo dobili tako da iz svake od tri jednadžbe izrazimo parametar  $t$  i onda ih izjednačimo zove se **kanonski oblik jednadžbe pravca u prostoru**:

$$\frac{x - x_0}{u} = \frac{y - y_0}{v} = \frac{z - z_0}{w}.$$

Oprez s tim oblikom!

Skraćeni zapis parametarskih jednadžbi pravca, koji bismo dobili tako da iz svake od tri jednadžbe izrazimo parametar  $t$  i onda ih izjednačimo zove se **kanonski oblik jednadžbe pravca u prostoru**:

$$\frac{x - x_0}{u} = \frac{y - y_0}{v} = \frac{z - z_0}{w}.$$

Oprez s tim oblikom!

Pravac može biti zadan i kao presjek dvije (neparalelne) ravnine, tj. sustavom

$$\begin{aligned}Ax + By + Cz + D &= 0, \\A'x + B'y + C'z + D' &= 0.\end{aligned}$$

### Zadatak

*Odredite parametarski i kanonski oblik jednadžbi pravca zadanog kao presjek ravnina  $x + y + z = 1$  i  $2x - y = 5$ .*

# Odnos dvaju pravaca

Pravci u prostoru mogu se ne sjeći bez da su paralelni. **Uvjet paralelnosti pravaca** je kolinearnost njihovih vektora smjera: ako su  $\vec{s} = [u, v, w]$  i  $\vec{s}' = [u', v', w']$  vektori smjera dva pravca, oni su paralelni ako je  $u : u' = v : v' = w : w'$ . Pravci u prostoru koji se ne sijeku i nisu paralelni zovu se **mimoilazni (mimosmjerni) pravci**.

# Odnos dvaju pravaca

Pravci u prostoru mogu se ne sjeći bez da su paralelni. **Uvjet paralelnosti pravaca** je kolinearnost njihovih vektora smjera: ako su  $\vec{s} = [u, v, w]$  i  $\vec{s}' = [u', v', w']$  vektori smjera dva pravca, oni su paralelni ako je  $u : u' = v : v' = w : w'$ . Pravci u prostoru koji se ne sijeku i nisu paralelni zovu se **mimoilazni (mimosmjerni) pravci**.

## Zadatak

Ispitajte međusobni položaj pravaca  $\frac{x}{0} = \frac{y+1}{2} = \frac{z-3}{2}$  ;  
 $\frac{x-1}{1} = \frac{y-2}{1} = \frac{z-3}{1}$ .

# Odnos dvaju pravaca

Pravci u prostoru mogu se ne sjeći bez da su paralelni. **Uvjet paralelnosti pravaca** je kolinearnost njihovih vektora smjera: ako su  $\vec{s} = [u, v, w]$  i  $\vec{s}' = [u', v', w']$  vektori smjera dva pravca, oni su paralelni ako je  $u : u' = v : v' = w : w'$ . Pravci u prostoru koji se ne sijeku i nisu paralelni zovu se **mimoilazni (mimosmjerni) pravci**.

## Zadatak

Ispitajte međusobni položaj pravaca  $\frac{x}{0} = \frac{y+1}{2} = \frac{z-3}{2}$  ;  
 $\frac{x-1}{1} = \frac{y-2}{1} = \frac{z-3}{1}$ .

	$\vec{s} \parallel \vec{s}'$	$\vec{s} \nparallel \vec{s}'$
$p \cap p' = \emptyset$	paralelni (razl.)	mimoilazni
$p \cap p' \neq \emptyset$	podudarni	sijeku se



# Kut dvaju pravaca

## Zadatak

*Kako iz kanonskog oblika jednadžbi pravca vidimo je li on paralelan osi aplikata?*

**Kut dvaju pravaca** definira se kao kut njihovih vektora smjera.

Posebno, **uvjet okomitosti pravaca** je  $\vec{s} \cdot \vec{s}' = 0$ . U slučaju Kartezijevog koordinatnog sustava to se svodi na

$$u u' + v v' + w w' = 0.$$

## Zadatak

*Nadite pravac (pravce) koji prolazi kroz ishodište, okomit je na  $x$ -os i sa  $z$ -osi zatvara kut od  $45^\circ$ , ako su parametri koordinatnog sustava  $a = 5$  cm,  $b = 3$  cm,  $c = 4$  cm,  $\alpha = \beta = \gamma = 90^\circ$ .*

**Rješenje.** Imamo zadano  $T_0 = (0, 0, 0)$  i kutove koje vektor smjera  $\vec{s} = [u, v, w]$  traženog pravca zatvara s x-osi (dakle, s vektorom  $\vec{a}$ ) i sa z-osi (dakle s vektorom  $\vec{c}$ ).

Imamo dakle

$$0 = (u\vec{a} + v\vec{b} + w\vec{c}) \cdot \vec{a} = u a^2 \Rightarrow u = 0.$$

Dakle,  $s = [0, v, w]$ . Dalje imamo

$$\frac{\sqrt{2}}{2} = \frac{\vec{s} \cdot \vec{c}}{s c} = \frac{w c^2}{\sqrt{v^2 + w^2} c m \cdot c} \Rightarrow$$

$$\frac{1}{2} = \frac{16w^2}{v^2 + w^2} \Rightarrow 32w^2 = v^2 + w^2 \Rightarrow v = \pm w\sqrt{31}.$$

Dakle, imamo dva rješenja:

$$\frac{x}{0} = \frac{y}{\pm\sqrt{31}} = \frac{z}{1}.$$

# Odnos pravca i ravnine

Pravac s vektorom smjera  $\vec{s} = [u, v, w]$  je paralelan ravnini s vektorom normale  $\vec{n} = [A, B, C]$  ako je njegov vektor smjera okomit na vektor normale ravnine. Stoga je **uvjet paralelnosti**  $\vec{s} \cdot \vec{n} = 0$ . Zbog već izvedene formule  $\vec{r} \cdot \vec{r}^* = uh + vk + wl$  uvjet okomitosti pravca i ravnine iskazan je formulom

$$uA + vB + wC = 0.$$

# Odnos pravca i ravnine

Pravac s vektorom smjera  $\vec{s} = [u, v, w]$  je paralelan ravnini s vektorom normale  $\vec{n} = [A, B, C]^*$  ako je njegov vektor smjera okomit na vektor normale ravnine. Stoga je **uvjet paralelnosti**  $\vec{s} \cdot \vec{n} = 0$ . Zbog već izvedene formule  $\vec{r} \cdot \vec{r}^* = uh + vk + wl$  uvjet okomitosti pravca i ravnine iskazan je formulom

$$uA + vB + wC = 0.$$

Pravac je okomit na ravninu ako su ti vektori paralelni. Za slučaj Kartezijevog koordinatnog sustava to daje **uvjet okomitosti**  $u : A = v : B = w : C$ .

Ako pravac nije paralelan ravnini, on ju siječe u jednoj točki koja se zove **probodište pravca i ravnine**.

## Zadatak

Odredite probodište pravca  $\frac{x}{2} = \frac{y-1}{0} = \frac{z+2}{3}$  i ravnine  
 $2x + 3y + 4z = 1$ .

## Zadatak

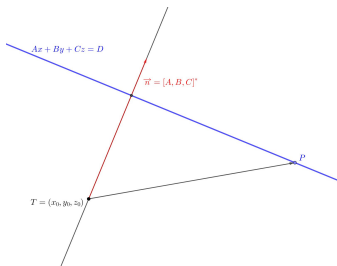
Odredite probodište pravca  $\frac{x}{2} = \frac{y-1}{0} = \frac{z+2}{3}$  i ravnine  $2x + 3y + 4z = 1$ .

**Udaljenost točke do ravnine** definira se kao udaljenost točke do njezine ortogonalne projekcije na ravninu, odnosno do probodišta pravca koji je okomit na ravninu i prolazi zadanom točkom.

## Zadatak

Odredite probodište pravca  $\frac{x}{2} = \frac{y-1}{0} = \frac{z+2}{3}$  i ravnine  $2x + 3y + 4z = 1$ .

**Udaljenost točke do ravnine** definira se kao udaljenost točke do njezine ortogonalne projekcije na ravninu, odnosno do probodišta pravca koji je okomit na ravninu i prolazi zadanom točkom.



S prethodne slike vidimo: Duljina projekcije vektora  $\overrightarrow{TP}$  na  $\vec{n}$  je točno tražena udaljenost točke  $T$  do ravnine. Neka je  $P$  sjecište ravnine s  $x$ -osi,  $P = (\frac{D}{A}, 0, 0)$  (ako je ravnina paralelna s  $x$ -osi za  $P$  uzimamo sjecište s jednom od druge dvije koordinatne osi).



S prethodne slike vidimo: Duljina projekcije vektora  $\overrightarrow{TP}$  na  $\vec{n}$  je točno tražena udaljenost točke  $T$  do ravnine. Neka je  $P$  sjecište ravnine s  $x$ -osi,  $P = (\frac{D}{A}, 0, 0)$  (ako je ravnina paralelna s  $x$ -osi za  $P$  uzimamo sjecište s jednom od druge dvije koordinatne osi).

$$d(T, \Pi) = \left| \frac{[A, B, C]^* \cdot [\frac{D}{A} - x_0, -y_0, -z_0]}{|\vec{n}|} \right| = \frac{|Ax_0 + By_0 + Cz_0 - D|}{|\vec{n}|}.$$

Ako je koordinatni sustav Kartezijev, dobijemo:

$$d(T, \Pi) = \frac{|Ax_0 + By_0 + Cz_0 - D|}{\sqrt{A^2 + B^2 + C^2}}.$$