

# Statistika

Vanja Wagner

## 3. Osnove vjerojatnosti

# Osnove vjerojatnosti

Cilj ovog poglavlja je prikazati osnovne pojmove i tehnike iz teorije vjerojatnosti koji su nam nužni za postavljanje i razumijevanje inferencijalnih statističkih procedura.

## Osnove vjerojatnosti

Cilj ovog poglavlja je prikazati osnovne pojmove i tehnike iz teorije vjerojatnosti koji su nam nužni za postavljanje i razumijevanje inferencijalnih statističkih procedura.

Želimo prikazati najčešće korištene matematičke modele kojima ćemo opisivati razne tipove pokusa, procjena i donošenja statističkih zaključaka temeljenih na nekim podacima.

## Osnove vjerojatnosti

Cilj ovog poglavlja je prikazati osnovne pojmove i tehnike iz teorije vjerojatnosti koji su nam nužni za postavljanje i razumijevanje inferencijalnih statističkih procedura.

Želimo prikazati najčešće korištene matematičke modele kojima ćemo opisivati razne tipove pokusa, procjena i donošenja statističkih zaključaka temeljenih na nekim podacima.

Ključni pojmovi koji zahtijevaju matematičku formalizaciju: događaj (slučajni ishod pokusa), vjerojatnost događaja (koliko je izgledno da se takav ishod dogodi), slučajna varijabla (slučajna varijabla čije vrijednosti mjerimo na nekom uzorku) i njena distribucija (koliko je vjerojatno da slučajna vrijednost poprimi neke vrijednosti), očekivanje (kolika je srednja ili očekivana vrijednost neke slučajne vrijednosti), . . .

- **Slučajan pokus** je svaki neizvjesan proces koji završava nekim slučajnim ishodom, odnosno **elementarnim događajem**.
- **Prostor elementarnih događaja** je skup svih elementarnih događaja, odnosno potencijalnih ishoda jednog pokusa.
- **Događaj** je skup koji se sastoji od jednog ili više elementarnih događaja.

- **Slučajan pokus** je svaki neizvjesan proces koji završava nekim slučajnim ishodom, odnosno **elementarnim događajem**.
- **Prostor elementarnih događaja** je skup svih elementarnih događaja, odnosno potencijalnih ishoda jednog pokusa.
- **Događaj** je skup koji se sastoji od jednog ili više elementarnih događaja.

**Primjer:**

---

**Vjerojatnosni  
eksperiment**

**Prostor elementarnih  
događaja**

**Primjer  
događaja**

---

- **Slučajan pokus** je svaki neizvjesan proces koji završava nekim slučajnim ishodom, odnosno **elementarnim događajem**.
- **Prostor elementarnih događaja** je skup svih elementarnih događaja, odnosno potencijalnih ishoda jednog pokusa.
- **Događaj** je skup koji se sastoji od jednog ili više elementarnih događaja.

**Primjer:**

Vjerojatnosni eksperiment	Prostor elementarnih događaja	Primjer događaja
Bacanje novčića	{Pismo, glava}	"Palo je pismo" = {Pismo}



- **Slučajan pokus** je svaki neizvjesan proces koji završava nekim slučajnim ishodom, odnosno **elementarnim događajem**.
- **Prostor elementarnih događaja** je skup svih elementarnih događaja, odnosno potencijalnih ishoda jednog pokusa.
- **Događaj** je skup koji se sastoji od jednog ili više elementarnih događaja.

**Primjer:**

Vjerojatnosni eksperiment	Prostor elementarnih događaja	Primjer događaja
Bacanje novčića	{Pismo, glava}	"Palo je pismo" = {Pismo}
Bacanje kocke	{1, 2, 3, 4, 5, 6}	"Pao je paran broj" = {2,4,6}

- **Slučajan pokus** je svaki neizvjesan proces koji završava nekim slučajnim ishodom, odnosno **elementarnim događajem**.
- **Prostor elementarnih događaja** je skup svih elementarnih događaja, odnosno potencijalnih ishoda jednog pokusa.
- **Događaj** je skup koji se sastoji od jednog ili više elementarnih događaja.

**Primjer:**

Vjerojatnosni eksperiment	Prostor elementarnih događaja	Primjer događaja
Bacanje novčića	{Pismo, glava}	"Palo je pismo" = {Pismo}
Bacanje kocke	{1, 2, 3, 4, 5, 6}	"Pao je paran broj" = {2,4,6}
Bacanje 2 novčića	{(P,P), (G,G), (P,G), (G,P)}	"Palo je 1 pismo" = {(P,G), (G,P)}

**Zadatak.** Odredite prostor elementarnih događaja za bacanje dvije kocke.

**Zadatak.** Odredite prostor elementarnih događaja za bacanje dvije kocke.

**Rješenje.**

1. kocka	2. kocka					
	1	2	3	4	5	6
1	(1,1)	(1,2)	(1,3)	(1,4)	(1,5)	(1,6)
2	(2,1)	(2,2)	(2,3)	(2,4)	(2,5)	(2,6)
3	(3,1)	(3,2)	(3,3)	(3,4)	(3,5)	(3,6)
4	(4,1)	(4,2)	(4,3)	(4,4)	(4,5)	(4,6)
5	(5,1)	(5,2)	(5,3)	(5,4)	(5,5)	(5,6)
6	(6,1)	(6,2)	(6,3)	(6,4)	(6,5)	(6,6)

## Opći zapis (elementarnih) događaja

Prostor elementarnih događaja najčešće označavamo s  $\Omega$ , a elementarni događaj (element iz skupa  $\Omega$ ) s  $\omega$ .

## Opći zapis (elementarnih) događaja

Prostor elementarnih događaja najčešće označavamo s  $\Omega$ , a elementarni događaj (element iz skupa  $\Omega$ ) s  $\omega$ .

Često ćemo pretpostaviti da je  $\Omega$  konačan skup s  $n \in \mathbb{N}$  elemenata (pokus ima konačno mnogo potencijalnih ishoda). U tom slučaju možemo  $\Omega$  zapisati kao

$$\Omega = \{\omega_1, \omega_2, \dots, \omega_n\}.$$

## Opći zapis (elementarnih) događaja

Prostor elementarnih događaja najčešće označavamo s  $\Omega$ , a elementarni događaj (element iz skupa  $\Omega$ ) s  $\omega$ .

Često ćemo pretpostaviti da je  $\Omega$  konačan skup s  $n \in \mathbb{N}$  elemenata (pokus ima konačno mnogo potencijalnih ishoda). U tom slučaju možemo  $\Omega$  zapisati kao

$$\Omega = \{\omega_1, \omega_2, \dots, \omega_n\}.$$

Događaj je proizvoljan podskup  $A$  od  $\Omega$ , pišemo  $A \subset \Omega$ . Stoga da bismo znali formulirati kompleksnije događaje, trebamo se podsjetiti nekih **skupovnih operacija**. Neka su  $A, B \subset \Omega$ , što su:

$$A \cap B, \quad A \cup B, \quad A^c, \quad \emptyset?$$

Podsjetite se Vennovih dijagrama!

## Vjerojatnost - osnovni primjer

Pretpostavimo da promatramo pokus koji ima  $n$  mogućih ishoda koji su svi jednako mogući, npr. na slučajan način iz akvarija vadimo jednu od 12 ribica (ima smisla pretpostaviti da je izbor svake ribice jednako vjerojatan).



## Vjerojatnost - osnovni primjer

Pretpostavimo da promatramo pokus koji ima  $n$  mogućih ishoda koji su svi jednako mogući, npr. na slučajan način iz akvarija vadimo jednu od 12 ribica (ima smisla pretpostaviti da je izbor svake ribice jednako vjerojatan).  $\rightarrow \Omega = \{\omega_1, \dots, \omega_{12}\}$

## Vjerojatnost - osnovni primjer

Pretpostavimo da promatramo pokus koji ima  $n$  mogućih ishoda koji su svi jednako mogući, npr. na slučajan način iz akvarija vadimo jednu od 12 ribica (ima smisla pretpostaviti da je izbor svake ribice jednako vjerojatan).  $\rightarrow \Omega = \{\omega_1, \dots, \omega_{12}\}$

Kolika je vjerojatnost da je iz akvarija izvađena ribica  $\omega_3$ ?

## Vjerojatnost - osnovni primjer

Pretpostavimo da promatramo pokus koji ima  $n$  mogućih ishoda koji su svi jednako mogući, npr. na slučajan način iz akvarija vadimo jednu od 12 ribica (ima smisla pretpostaviti da je izbor svake ribice jednako vjerojatan).  $\rightarrow \Omega = \{\omega_1, \dots, \omega_{12}\}$

Kolika je vjerojatnost da je iz akvarija izvađena ribica  $\omega_3$ ?  $\rightarrow \frac{1}{12}!$

## Vjerojatnost - osnovni primjer

Pretpostavimo da promatramo pokus koji ima  $n$  mogućih ishoda koji su svi jednako mogući, npr. na slučajan način iz akvarija vadimo jednu od 12 ribica (ima smisla pretpostaviti da je izbor svake ribice jednako vjerojatan).  $\rightarrow \Omega = \{\omega_1, \dots, \omega_{12}\}$

Kolika je vjerojatnost da je iz akvarija izvađena ribica  $\omega_3$ ?  $\rightarrow \frac{1}{12}!$

Kako bi odredili vjerojatnost kompleksnijih događaja? Recimo da je u akvariju 8 ribica vrste *Carassius auratus* i 4 ribice vrste *Ancistrus cirrhosus*. Kolika je vjerojatnost da je slučajno izvađena ribica potonje vrste?

## Vjerojatnost - osnovni primjer

Pretpostavimo da promatramo pokus koji ima  $n$  mogućih ishoda koji su svi jednako mogući, npr. na slučajan način iz akvarija vadimo jednu od 12 ribica (ima smisla pretpostaviti da je izbor svake ribice jednako vjerojatan).  $\rightarrow \Omega = \{\omega_1, \dots, \omega_{12}\}$

Kolika je vjerojatnost da je iz akvarija izvađena ribica  $\omega_3$ ?  $\rightarrow \frac{1}{12}!$

Kako bi odredili vjerojatnost kompleksnijih događaja? Recimo da je u akvariju 8 ribica vrste *Carassius auratus* i 4 ribice vrste *Ancistrus cirrhosus*. Kolika je vjerojatnost da je slučajno izvađena ribica potonje vrste?  $\rightarrow \frac{4}{12} = \frac{1}{3}!$

## Vjerojatnost - osnovni primjer

Pretpostavimo da promatramo pokus koji ima  $n$  mogućih ishoda koji su svi jednako mogući, npr. na slučajan način iz akvarija vadimo jednu od 12 ribica (ima smisla pretpostaviti da je izbor svake ribice jednako vjerojatan).  $\rightarrow \Omega = \{\omega_1, \dots, \omega_{12}\}$

Kolika je vjerojatnost da je iz akvarija izvađena ribica  $\omega_3$ ?  $\rightarrow \frac{1}{12}!$

Kako bi odredili vjerojatnost kompleksnijih događaja? Recimo da je u akvariju 8 ribica vrste *Carassius auratus* i 4 ribice vrste *Ancistrus cirrhosus*. Kolika je vjerojatnost da je slučajno izvađena ribica potonje vrste?  $\rightarrow \frac{4}{12} = \frac{1}{3}!$

**Napomena.** Uočimo da je vjerojatnost da izvučemo ribicu pojedine vrste ista kao i relativna frekvencija te vrste ribica u akvariju!

## Vjerojatnost - osnovni primjer

Pretpostavimo da promatramo pokus koji ima  $n$  mogućih ishoda koji su svi jednako mogući, npr. na slučajan način iz akvarija vadimo jednu od 12 ribica (ima smisla pretpostaviti da je izbor svake ribice jednako vjerojatan).  $\rightarrow \Omega = \{\omega_1, \dots, \omega_{12}\}$

Kolika je vjerojatnost da je iz akvarija izvađena ribica  $\omega_3$ ?  $\rightarrow \frac{1}{12}!$

Kako bi odredili vjerojatnost kompleksnijih događaja? Recimo da je u akvariju 8 ribica vrste *Carassius auratus* i 4 ribice vrste *Ancistrus cirrhosus*. Kolika je vjerojatnost da je slučajno izvađena ribica potonje vrste?  $\rightarrow \frac{4}{12} = \frac{1}{3}!$

**Napomena.** Uočimo da je vjerojatnost da izvučemo ribicu pojedine vrste ista kao i relativna frekvencija te vrste ribica u akvariju!

Općenito, ako je  $A \subset \Omega$  proizvoljan događaj, s  $\mathbf{P}(A)$  ćemo označavati **vjerojatnost** događaja  $A$ .

## Vjerojatnost - osnovni primjer

Pretpostavimo da promatramo pokus koji ima  $n$  mogućih ishoda koji su svi jednako mogući, npr. na slučajnan način iz akvarija vadimo jednu od 12 ribica (ima smisla pretpostaviti da je izbor svake ribice jednako vjerojatan).  $\rightarrow \Omega = \{\omega_1, \dots, \omega_{12}\}$

Kolika je vjerojatnost da je iz akvarija izvađena ribica  $\omega_3$ ?  $\rightarrow \frac{1}{12}!$

Kako bi odredili vjerojatnost kompleksnijih događaja? Recimo da je u akvariju 8 ribica vrste *Carassius auratus* i 4 ribice vrste *Ancistrus cirrhosus*. Kolika je vjerojatnost da je slučajno izvađena ribica potonje vrste?  $\rightarrow \frac{4}{12} = \frac{1}{3}!$

**Napomena.** Uočimo da je vjerojatnost da izvučemo ribicu pojedine vrste ista kao i relativna frekvencija te vrste ribica u akvariju!

Općenito, ako je  $A \subset \Omega$  proizvoljan događaj, s  $\mathbf{P}(A)$  ćemo označavati **vjerojatnost** događaja  $A$ . U slučaju kada su svi elementarni događaji jednako vjerojatni, vrijedi

$$\mathbf{P}(A) = \frac{\text{broj povoljnih elementarnih događaja}}{\text{ukupan broj elementarnih događaja}} = \frac{|A|}{|\Omega|},$$

gdje je  $|A|$  veličina skupa  $A$ , odnosno broj elementa u skupu  $A$ .



**Primjer.** Kolika je vjerojatnost da iz špila s 52 karte izvućemo kralja?

**Primjer.** Kolika je vjerojatnost da iz špila s 52 karte izvućemo kralja?

**Rješenje.**

1 ♠	2 ♠	3 ♠	4 ♠	5 ♠	6 ♠	7 ♠	8 ♠	9 ♠	10 ♠	J ♠	Q ♠	K ♠
1 ♦	2 ♦	3 ♦	4 ♦	5 ♦	6 ♦	7 ♦	8 ♦	9 ♦	10 ♦	J ♦	Q ♦	K ♦
1 ♥	2 ♥	3 ♥	4 ♥	5 ♥	6 ♥	7 ♥	8 ♥	9 ♥	10 ♥	J ♥	Q ♥	K ♥
1 ♣	2 ♣	3 ♣	4 ♣	5 ♣	6 ♣	7 ♣	8 ♣	9 ♣	10 ♣	J ♣	Q ♣	K ♣

**Primjer.** Kolika je vjerojatnost da iz špila s 52 karte izvućemo kralja?

**Rješenje.**



$$P(E) = \frac{4}{52} = 0.0769$$

**Primjer.** Kolika je vjerojatnost da iz špila s 52 karte izvućemo 6 tref?

**Primjer.** Kolika je vjerojatnost da iz špila s 52 karte izvučemo 6 tref?

**Rješenje.**



**Primjer.** Kolika je vjerojatnost da iz špila s 52 karte izvućemo 6 tref?

**Rješenje.**



$$P(E) = \frac{1}{52} = 0.00192$$

# Vjerojatnost

Općenito, **vjerojatnost** definiramo kao funkciju **P** na skupu događaja koja zadovoljava:

# Vjerojatnost

Općenito, **vjerojatnost** definiramo kao funkciju **P** na skupu događaja koja zadovoljava:

- 1  $0 \leq \mathbf{P}(A) \leq 1$ , za svaki događaj  $A$ ;



# Vjerojatnost

Općenito, **vjerojatnost** definiramo kao funkciju  $\mathbf{P}$  na skupu događaja koja zadovoljava:

- 1  $0 \leq \mathbf{P}(A) \leq 1$ , za svaki događaj  $A$ ;
- 2  $\mathbf{P}(\Omega) = 1$ , odnosno vjerojatnost da se dogodi neki od elementarnih događaja je 1;

# Vjerojatnost

Općenito, **vjerojatnost** definiramo kao funkciju  $\mathbf{P}$  na skupu događaja koja zadovoljava:

- 1  $0 \leq \mathbf{P}(A) \leq 1$ , za svaki događaj  $A$ ;
- 2  $\mathbf{P}(\Omega) = 1$ , odnosno vjerojatnost da se dogodi neki od elementarnih događaja je 1;
- 3 Ako se događaji  $A_1, A_2, \dots, A_n, \dots$  međusobno isključuju (tj. disjunktni su) onda vrijedi

$$\mathbf{P}\left(\bigcup_i A_i\right) = \sum_i \mathbf{P}(A_i).$$

# Vjerojatnost

Općenito, **vjerojatnost** definiramo kao funkciju  $\mathbf{P}$  na skupu događaja koja zadovoljava:

- 1  $0 \leq \mathbf{P}(A) \leq 1$ , za svaki događaj  $A$ ;
- 2  $\mathbf{P}(\Omega) = 1$ , odnosno vjerojatnost da se dogodi neki od elementarnih događaja je 1;
- 3 Ako se događaji  $A_1, A_2, \dots, A_n, \dots$  međusobno isključuju (tj. disjunktni su) onda vrijedi

$$\mathbf{P}\left(\bigcup_i A_i\right) = \sum_i \mathbf{P}(A_i).$$

Događaji  $A$  i  $B$  se međusobno isključuju ako  $A \cap B = \emptyset$ .

## Neki primjeri:

- Kod bacanja novčića su događaji da je palo pismo i da je pala glava međusobno isključivi.

# Vjerojatnost

Općenito, **vjerojatnost** definiramo kao funkciju  $\mathbf{P}$  na skupu događaja koja zadovoljava:

- 1  $0 \leq \mathbf{P}(A) \leq 1$ , za svaki događaj  $A$ ;
- 2  $\mathbf{P}(\Omega) = 1$ , odnosno vjerojatnost da se dogodi neki od elementarnih događaja je 1;
- 3 Ako se događaji  $A_1, A_2, \dots, A_n, \dots$  međusobno isključuju (tj. disjunktni su) onda vrijedi

$$\mathbf{P}\left(\bigcup_i A_i\right) = \sum_i \mathbf{P}(A_i).$$

Događaji  $A$  i  $B$  se međusobno isključuju ako  $A \cap B = \emptyset$ .

## Neki primjeri:

- Kod bacanja novčića su događaji da je palo pismo i da je pala glava međusobno isključivi.
- Kod bacanja kocke su događaji pao je paran broj i pao je broj 2 međusobno isključivi.

# Vjerojatnost

Općenito, **vjerojatnost** definiramo kao funkciju  $\mathbf{P}$  na skupu događaja koja zadovoljava:

- 1  $0 \leq \mathbf{P}(A) \leq 1$ , za svaki događaj  $A$ ;
- 2  $\mathbf{P}(\Omega) = 1$ , odnosno vjerojatnost da se dogodi neki od elementarnih događaja je 1;
- 3 Ako se događaji  $A_1, A_2, \dots, A_n, \dots$  međusobno isključuju (tj. disjunktni su) onda vrijedi

$$\mathbf{P}\left(\bigcup_i A_i\right) = \sum_i \mathbf{P}(A_i).$$

Događaji  $A$  i  $B$  se međusobno isključuju ako  $A \cap B = \emptyset$ .

## Neki primjeri:

- Kod bacanja novčića su događaji da je palo pismo i da je pala glava međusobno isključivi.
- Kod bacanja kocke su događaji pao je paran broj i pao je broj 2 međusobno isključivi.
- Kod bacanja kocke događaji pao je broj djeljiv s 3 i pao je neparan broj **nisu** međusobno isključivi.

## Neka svojstva vjerojatnosti

- Kažemo da se događaj  $A$  ne može dogoditi (nemogući događaj) ako je  $\mathbf{P}(A) = 0$ .

## Neka svojstva vjerojatnosti

- Kažemo da se događaj  $A$  ne može dogoditi (nemogući događaj) ako je  $\mathbf{P}(A) = 0$ .
- Kažemo da je događaj  $A$  siguran ako je  $\mathbf{P}(A) = 1$ .

## Neka svojstva vjerojatnosti

- Kažemo da se događaj  $A$  ne može dogoditi (nemogući događaj) ako je  $\mathbf{P}(A) = 0$ .
- Kažemo da je događaj  $A$  siguran ako je  $\mathbf{P}(A) = 1$ .
- Zbroj vjerojatnosti svih elementarnih događaja je 1.



## Neka svojstva vjerojatnosti

- Kažemo da se događaj  $A$  ne može dogoditi (nemogući događaj) ako je  $\mathbf{P}(A) = 0$ .
- Kažemo da je događaj  $A$  siguran ako je  $\mathbf{P}(A) = 1$ .
- Zbroj vjerojatnosti svih elementarnih događaja je 1.
- Prisjetimo se, s  $A^c$  označavamo događaj "inje se dogodio događaj  $A$ ". Vrijedi

$$\mathbf{P}(A^c) = 1 - \mathbf{P}(A).$$

## Neka svojstva vjerojatnosti

- Kažemo da se događaj  $A$  ne može dogoditi (nemogući događaj) ako je  $\mathbf{P}(A) = 0$ .
- Kažemo da je događaj  $A$  siguran ako je  $\mathbf{P}(A) = 1$ .
- Zbroj vjerojatnosti svih elementarnih događaja je 1.
- Prisjetimo se, s  $A^c$  označavamo događaj "inje se dogodio događaj  $A$ ". Vrijedi

$$\mathbf{P}(A^c) = 1 - \mathbf{P}(A).$$

- Ako događaj  $A$  povlači događaj  $B$ ,  $A \subset B$ , tada je

$$\mathbf{P}(A) \leq \mathbf{P}(B).$$

## Neka svojstva vjerojatnosti

- Kažemo da se događaj  $A$  ne može dogoditi (nemogući događaj) ako je  $\mathbf{P}(A) = 0$ .
- Kažemo da je događaj  $A$  siguran ako je  $\mathbf{P}(A) = 1$ .
- Zbroj vjerojatnosti svih elementarnih događaja je 1.
- Prisjetimo se, s  $A^c$  označavamo događaj "inje se dogodio događaj  $A$ ". Vrijedi

$$\mathbf{P}(A^c) = 1 - \mathbf{P}(A).$$

- Ako događaj  $A$  povlači događaj  $B$ ,  $A \subset B$ , tada je

$$\mathbf{P}(A) \leq \mathbf{P}(B).$$

- Vjerojatnost da se dogodio događaj  $A$  ili događaj  $B$  jednaka je

$$\mathbf{P}(A \cup B) = \mathbf{P}(A) + \mathbf{P}(B) - \mathbf{P}(A \cap B).$$

Ako se  $A$  i  $B$  međusobno isključuju ( $A \cap B = \emptyset$ ) onda je  $\mathbf{P}(A \cup B) = \mathbf{P}(A) + \mathbf{P}(B)$ .  
Razlog tome je što je  $\mathbf{P}(\emptyset) = 0$ .

**DZ.** Odredite vjerojatnosti sljedećih događaja kod bacanja dvije kocke:

- a) Zbroj je 6.
- b) Par (dva ista broja).
- c) Zbroj je 7 ili 11.
- d) Zbroj je veći od 9.
- e) Zbroj je manji ili jednak 4.

**DZ.** U kutiji se nalazi 5 crvenih, 2 bijele i 3 zelene kuglice. Ukoliko je kuglica izvučena slučajno, odredite vjerojatnost da je izvčena kuglica:

- a) crvena
- b) zelena
- c) crvena ili bijela
- d) nije zelena
- e) nije crvena

**DZ.** U kutiji se nalazi 5 crvenih, 2 bijele i 3 zelene kuglice. Ukoliko je kuglica izvučena slučajno, odredite vjerojatnost da je izvčena kuglica:

- a) crvena
- b) zelena
- c) crvena ili bijela
- d) nije zelena
- e) nije crvena

**Rješenje.**

a)  $P(\text{crvena}) = \frac{5}{10} = 0.5$

b)  $P(\text{zelena}) = \frac{3}{10} = 0.3$

c)  $P(\text{crvena ili bijela}) = \frac{5+2}{10} = 0.7$

d)  $P(\text{nije zelena}) = 1 - P(\text{zelena}) = 1 - 0.3 = 0.7$

e)  $P(\text{nije crvena}) = 1 - P(\text{crvena}) = 1 - 0.5 = 0.5$

**Primjer:** Kolika je vjerojatnost da iz špila s 52 karte izvućemo 3 ili karo?

**Primjer:** Kolika je vjerojatnost da iz špila s 52 karte izvućemo 3 ili karo?

**Rješenje.**

Jedna je mogućnost da prebrojimo karte koju su ili karo ili srce:

1 ♠	2 ♠	3 ♠	4 ♠	5 ♠	6 ♠	7 ♠	8 ♠	9 ♠	10 ♠	J ♠	Q ♠	K ♠
1 ♦	2 ♦	3 ♦	4 ♦	5 ♦	6 ♦	7 ♦	8 ♦	9 ♦	10 ♦	J ♦	Q ♦	K ♦
1 ♥	2 ♥	3 ♥	4 ♥	5 ♥	6 ♥	7 ♥	8 ♥	9 ♥	10 ♥	J ♥	Q ♥	K ♥
1 ♣	2 ♣	3 ♣	4 ♣	5 ♣	6 ♣	7 ♣	8 ♣	9 ♣	10 ♣	J ♣	Q ♣	K ♣

Vrijedi da je



**Primjer:** Kolika je vjerojatnost da iz špila s 52 karte izvućemo 3 ili karo?

**Rješenje.**

Jedna je mogućnost da prebrojimo karte koju su ili karo ili srce:

1 ♠	2 ♠	3 ♠	4 ♠	5 ♠	6 ♠	7 ♠	8 ♠	9 ♠	10 ♠	J ♠	Q ♠	K ♠
1 ♦	2 ♦	3 ♦	4 ♦	5 ♦	6 ♦	7 ♦	8 ♦	9 ♦	10 ♦	J ♦	Q ♦	K ♦
1 ♥	2 ♥	3 ♥	4 ♥	5 ♥	6 ♥	7 ♥	8 ♥	9 ♥	10 ♥	J ♥	Q ♥	K ♥
1 ♣	2 ♣	3 ♣	4 ♣	5 ♣	6 ♣	7 ♣	8 ♣	9 ♣	10 ♣	J ♣	Q ♣	K ♣

Vrijedi da je

$$P(E) = \frac{16}{52} = 0.3077.$$

**Primjer:** Kolika je vjerojatnost da iz špila s 52 karte izvućemo 3 ili karo?

**Rješenje.**

Jedna je mogućnost da prebrojimo karte koju su ili karo ili srce:

1 ♠	2 ♠	3 ♠	4 ♠	5 ♠	6 ♠	7 ♠	8 ♠	9 ♠	10 ♠	J ♠	Q ♠	K ♠
1 ♦	2 ♦	3 ♦	4 ♦	5 ♦	6 ♦	7 ♦	8 ♦	9 ♦	10 ♦	J ♦	Q ♦	K ♦
1 ♥	2 ♥	3 ♥	4 ♥	5 ♥	6 ♥	7 ♥	8 ♥	9 ♥	10 ♥	J ♥	Q ♥	K ♥
1 ♣	2 ♣	3 ♣	4 ♣	5 ♣	6 ♣	7 ♣	8 ♣	9 ♣	10 ♣	J ♣	Q ♣	K ♣

Vrijedi da je

$$P(E) = \frac{16}{52} = 0.3077.$$

No uočimo da smo mogli događaj  $E$  zapisati kao uniju događaja  $A$ ="izvukli smo 3" i  $B$ ="izvukli smo karo". Tada je

$$P(E) = P(A \cup B) = P(A) + P(B) - P(A \cap B) = \frac{4}{52} + \frac{13}{52} - \frac{1}{52} = 0.3077.$$

## Uvjetna vjerojatnost

Recimo da nas zanima je li rezultat bacanja kocke broj 6. Znamo da (ako je kocka simetrična) je vjerojatnost tog ishoda  $\frac{1}{6}$ . No recimo da nam osoba koja je bacila kocku da dodatnu informaciju, da je rezultat na kocki paran broj. Uz tu dodatnu informaciju, kolika je vjerojatnost da je pao broj 6?

## Uvjetna vjerojatnost

Recimo da nas zanima je li rezultat bacanja kocke broj 6. Znamo da (ako je kocka simetrična) je vjerojatnost tog ishoda  $\frac{1}{6}$ . No recimo da nam osoba koja je bacila kocku da dodatnu informaciju, da je rezultat na kocki paran broj. Uz tu dodatnu informaciju, kolika je vjerojatnost da je pao broj 6?  $\rightarrow \frac{1}{3}$ .

## Uvjetna vjerojatnost

Recimo da nas zanima je li rezultat bacanja kocke broj 6. Znamo da (ako je kocka simetrična) je vjerojatnost tog ishoda  $\frac{1}{6}$ . No recimo da nam osoba koja je bacila kocku da dodatnu informaciju, da je rezultat na kocki paran broj. Uz tu dodatnu informaciju, kolika je vjerojatnost da je pao broj 6?  $\rightarrow \frac{1}{3}$ .

**Uvjetna vjerojatnost** događaja  $B$  u odnosu na (uz uvjet) događaj  $A$  je vjerojatnost da će se događaj  $B$  dogoditi ako znamo da se dogodio događaj  $A$ .

Oznaka:  $\mathbf{P}(B|A)$ .

Uvjetnu vjerojatnost često možemo direktno odrediti iz prirode problema, a općenita formula je:

$$\mathbf{P}(B|A) = \frac{\mathbf{P}(A \cap B)}{\mathbf{P}(A)}.$$

**Primjer.** U kutiji se nalaze 3 crvene kuglice i 2 plave kuglice. Iz kutije slučajno izvlačimo jednu po jednu kuglicu i to tako da ih **ne vraćamo** nazad u kutiju. Odredite vjerojatnost da će u drugom izvlačenju biti izvučena crvena kuglica ako je prva izvučena kuglica bila plava.

Kolika bi bila ta vjerojatnost da je u prvom izvlačenju izvučena crvena kuglica?

**Primjer.** U kutiji se nalaze 3 crvene kuglice i 2 plave kuglice. Iz kutije slučajno izvlačimo jednu po jednu kuglicu i to tako da ih **ne vraćamo** nazad u kutiju. Odredite vjerojatnost da će u drugom izvlačenju biti izvučena crvena kuglica ako je prva izvučena kuglica bila plava.

Kolika bi bila ta vjerojatnost da je u prvom izvlačenju izvučena crvena kuglica?

**Rješenje.** Događaji:

$A$  - u prvom izvlačenju je izvučena plava kuglica

$B$  - u drugom izvlačenju je izvučena crvena kuglica

**Primjer.** U kutiji se nalaze 3 crvene kuglice i 2 plave kuglice. Iz kutije slučajno izvlačimo jednu po jednu kuglicu i to tako da ih **ne vraćamo** nazad u kutiju. Odredite vjerojatnost da će u drugom izvlačenju biti izvučena crvena kuglica ako je prva izvučena kuglica bila plava.

Kolika bi bila ta vjerojatnost da je u prvom izvlačenju izvučena crvena kuglica?

**Rješenje.** Događaji:

$A$  - u prvom izvlačenju je izvučena plava kuglica

$B$  - u drugom izvlačenju je izvučena crvena kuglica

Tražimo  $P(B|A)$ .



**Primjer.** U kutiji se nalaze 3 crvene kuglice i 2 plave kuglice. Iz kutije slučajno izvlačimo jednu po jednu kuglicu i to tako da ih **ne vraćamo** nazad u kutiju. Odredite vjerojatnost da će u drugom izvlačenju biti izvučena crvena kuglica ako je prva izvučena kuglica bila plava.

Kolika bi bila ta vjerojatnost da je u prvom izvlačenju izvučena crvena kuglica?

**Rješenje.** Događaji:

$A$  - u prvom izvlačenju je izvučena plava kuglica

$B$  - u drugom izvlačenju je izvučena crvena kuglica

Tražimo  $P(B|A)$ .

Ako je u 1. izvlačenju izvučena plava kuglica tada je u kutiji ostalo 3 crvene i jedna plava kuglica pa je

$$P(B|A) = P(2. crvena|1. plava) = \frac{3}{4}$$

**Primjer.** U kutiji se nalaze 3 crvene kuglice i 2 plave kuglice. Iz kutije slučajno izvlačimo jednu po jednu kuglicu i to tako da ih **ne vraćamo** nazad u kutiju. Odredite vjerojatnost da će u drugom izvlačenju biti izvučena crvena kuglica ako je prva izvučena kuglica bila plava.

Kolika bi bila ta vjerojatnost da je u prvom izvlačenju izvučena crvena kuglica?

**Rješenje.** Događaji:

$C$  - u prvom izvlačenju je izvučena crvena kuglica

$B$  - u drugom izvlačenju je izvučena crvena kuglica

Tražimo  $P(B|C)$ .

**Primjer.** U kutiji se nalaze 3 crvene kuglice i 2 plave kuglice. Iz kutije slučajno izvlačimo jednu po jednu kuglicu i to tako da ih **ne vraćamo** nazad u kutiju. Odredite vjerojatnost da će u drugom izvlačenju biti izvučena crvena kuglica ako je prva izvučena kuglica bila plava.

Kolika bi bila ta vjerojatnost da je u prvom izvlačenju izvučena crvena kuglica?

**Rješenje.** Događaji:

$C$  - u prvom izvlačenju je izvučena crvena kuglica

$B$  - u drugom izvlačenju je izvučena crvena kuglica

Tražimo  $P(B|C)$ .

Ako je u 1. izvlačenju izvučena crvena kuglica tada je u kutiji ostalo 2 crvene i 2 plave kuglica pa je

$$P(B|C) = P(2. \text{ crvena} | 1. \text{ crvena}) = \frac{2}{4}$$

Dva događaja  $A$  i  $B$  su **nezavisna** ako je

$$P(B|A) = P(B).$$

Dva događaja  $A$  i  $B$  su **nezavisna** ako je

$$P(B|A) = P(B).$$

Gornji uvjet je ekvivalentan uvjetu

$$P(A|B) = P(A).$$

Dva događaja  $A$  i  $B$  su **nezavisna** ako je

$$P(B|A) = P(B).$$

Gornji uvjet je ekvivalentan uvjetu

$$P(A|B) = P(A).$$

Događaji  $A$  i  $B$  su nezavisni ako pojavljivanje događaja  $A$  ne utječe na vjerojatnost događaja  $B$ . (I obratno.)

**Primjer.** Izvlačimo kartu iz špila s 52 karte. Događaji izvučen je tref i izvučen je as su nezavisni.

**Primjer.** Izvlačimo kartu iz špila s 52 karte. Događaji izvučen je tref i izvučen je as su nezavisni.

Događaji:

$A$  - izvučen je tref

$B$  - izvučen je as

Računamo:

$$P(B|A) = P(\text{ as } | \text{ tref } ) =$$



**Primjer.** Izvlačimo kartu iz špila s 52 karte. Događaji izvučen je tref i izvučen je as su nezavisni.

Događaji:

$A$  - izvučen je tref

$B$  - izvučen je as

Računamo:

$$P(B|A) = P(\text{ as } | \text{ tref } ) = \frac{1}{13}$$

**Primjer.** Izvlačimo kartu iz špila s 52 karte. Događaji izvučen je tref i izvučen je as su nezavisni.

Događaji:

$A$  - izvučen je tref

$B$  - izvučen je as

Računamo:

$$P(B|A) = P(\text{ as } | \text{ tref } ) = \frac{1}{13}$$

Kako je

$$P(B) = P(\text{ as } ) = \frac{4}{52} = \frac{1}{13}$$

**Primjer.** Izvlačimo kartu iz špila s 52 karte. Događaji izvučen je tref i izvučen je as su nezavisni.

Događaji:

$A$  - izvučen je tref

$B$  - izvučen je as

Računamo:

$$P(B|A) = P(\text{ as } | \text{ tref } ) = \frac{1}{13}$$

Kako je

$$P(B) = P(\text{ as } ) = \frac{4}{52} = \frac{1}{13}$$

slijedi

$$P(B|A) = P(B).$$

i događaji su nezavisni.

## Pravilo množenja vjerojatnost

Za dva događaja  $A$  i  $B$ , vjerojatnost da se dogodi događaj  $A$  i  $B$  je

$$P(A \cap B) = P(A) \cdot P(B|A) = P(B) \cdot P(A|B).$$

## Pravilo množenja vjerojatnost

Za dva događaja  $A$  i  $B$ , vjerojatnost da se dogodi događaj  $A$  i  $B$  je

$$P(A \cap B) = P(A) \cdot P(B|A) = P(B) \cdot P(A|B).$$

Ukoliko su događaji  $A$  i  $B$  **nezavisni**, tada je  $P(B|A) = P(B)$  i

$$P(A \cap B) = P(A) \cdot P(B).$$

**Primjer.** Pretpostavite da za neki gen u diploidnoj populaciji postoje dva oblika - alela:  $A$  i  $a$ . Neka su vjerojatnosti da je slučajno odabrani gen u populaciji prvi odn. drugi od njih  $p$  odn  $q = 1 - p$ . Tri su moguća genotipa za osobe u ovoj populaciji:  $AA$ ,  $aa$  i  $Aa$ . Pretpostavite model slučajnog parenja (engl. random mating) odn. da su paternalni  $G_p$  i maternalni gen  $G_m$  svake jedinice u novoj generaciji nezavisno izabrani. Odredite vjerojatnosti genotipova  $AA$ ,  $aa$  i  $Aa$

**Primjer.** Pretpostavite da za neki gen u diploidnoj populaciji postoje dva oblika - alela:  $A$  i  $a$ . Neka su vjerojatnosti da je slučajno odabrani gen u populaciji prvi odn. drugi od njih  $p$  odn  $q = 1 - p$ . Tri su moguća genotipa za osobe u ovoj populaciji:  $AA$ ,  $aa$  i  $Aa$ . Pretpostavite model slučajnog parenja (engl. random mating) odn. da su paternalni  $G_p$  i maternalni gen  $G_m$  svake jedinice u novoj generaciji nezavisno izabrani. Odredite vjerojatnosti genotipova  $AA$ ,  $aa$  i  $Aa$

**Rješenje.** Vrijedi

$$\mathbf{P}(AA) = \mathbf{P}(G_p = A \text{ i } G_m = A) = \mathbf{P}(G_p = A) \cdot \mathbf{P}(G_m = A) = p \cdot p = p^2.$$

Analogno bi pokazali  $\mathbf{P}(aa) = q^2$ . S druge strane genotip  $Aa$  odgovara događaju

$$G_p = A \text{ i } G_m = a \quad \text{ili} \quad G_p = a \text{ i } G_m = A.$$

Kako su događaji " $G_p = A$  i  $G_m = a$ " i " $G_p = a$  i  $G_m = A$ " međusobno isključivi, vrijedi da je

$$\begin{aligned} \mathbf{P}(Aa) &= \mathbf{P}(G_p = A \text{ i } G_m = a) + \mathbf{P}(G_p = a \text{ i } G_m = A) \\ &= \mathbf{P}(G_p = A)\mathbf{P}(G_m = a) + \mathbf{P}(G_p = a)\mathbf{P}(G_m = A) = pq + qp = 2pq. \end{aligned}$$

**DZ** U kutiji se nalaze 3 crvene kuglice, 4 plave i 2 bijele. Redom izvlačimo jednu po jednu kuglicu i to tako da nakon svakog izvlačenja izvučenu kuglicu vratimo u kutiju. Kolika je vjerojatnost da ćemo:

- a) u dva izvlačenja izvući dvije crvene kuglice?
- b) u dva izvlačenja izvući redom crvenu pa plavu kuglicu?
- c) u tri izvlačenja izvući redom bijelu pa plavu pa crvenu kuglicu?



**Primjer.** U kutiji se nalaze 3 crvene kuglice, 4 plave i 2 bijele. Redom izvlačimo jednu po jednu kuglicu i to tako da nakon svakog izvlačenja izvučenu kuglicu **NE** vratimo u kutiju. Kolika je vjerojatnost da ćemo:

- a) u dva izvlačenja izvući dvije crvene kuglice?
- b) u dva izvlačenja izvući redom crvenu pa plavu kuglicu?
- c) u tri izvlačenja izvući redom bijelu pa plavu pa crvenu kuglicu?

## Slučajna varijabla

Promotrimo slučajni pokus gdje izvlačimo jednu kuglicu na slučajan način iz kutije s 6 crvenih i 4 crne kuglice.

## Slučajna varijabla

Promotrimo slučajni pokus gdje izvlačimo jednu kuglicu na slučajan način iz kutije s 6 crvenih i 4 crne kuglice.

Uočimo da je **boja kuglice** jedno obilježje, odnosno **varijabla**.

## Slučajna varijabla

Promotrimo slučajni pokus gdje izvlačimo jednu kuglicu na slučajan način iz kutije s 6 crvenih i 4 crne kuglice.

Uočimo da je **boja kuglice** jedno obilježje, odnosno **varijabla**.

Tada **boju slučajno odabrane kuglice** možemo doživjeti kao jednu **slučajnu varijablu**.

## Slučajna varijabla

Promotrimo slučajni pokus gdje izvlačimo jednu kuglicu na slučajan način iz kutije s 6 crvenih i 4 crne kuglice.

Uočimo da je **boja kuglice** jedno obilježje, odnosno **varijabla**.

Tada **boju slučajno odabrane kuglice** možemo doživjeti kao jednu **slučajnu varijablu**.

Uočimo da slučajna varijabla "boja izvučene kuglice" može poprimiti vrijednosti "crvena" ili "crna". Kolike su vjerojatnosti da slučajna varijabla poprimi svaku od tih vrijednosti (**distribucija** slučajne varijable)?

## Slučajna varijabla

Promotrimo slučajni pokus gdje izvlačimo jednu kuglicu na slučajan način iz kutije s 6 crvenih i 4 crne kuglice.

Uočimo da je **boja kuglice** jedno obilježje, odnosno **varijabla**.

Tada **boju slučajno odabrane kuglice** možemo doživjeti kao jednu **slučajnu varijablu**.

Uočimo da slučajna varijabla "boja izvučene kuglice" može poprimiti vrijednosti "crvena" ili "crna". Kolike su vjerojatnosti da slučajna varijabla poprimi svaku od tih vrijednosti (**distribucija** slučajne varijable)?

Vrijednost	$p_i$
Crvena	0.6
Crna	0.4
Ukupno	1

## Očekivanje slučajne varijable

Ukoliko slučajna varijabla  $X$  poprima vrijednosti  $x_1, x_2, x_3, \dots, x_k, \dots$ , s pripadnim vjerojatnostima  $p_1, p_2, p_3, \dots, p_k, \dots$ . Njenu distribuciju često označavamo preko tablice distribucije:

$$X \sim \begin{pmatrix} x_1 & x_2 & \dots & x_k & \dots \\ p_1 & p_2 & \dots & p_k & \dots \end{pmatrix}.$$

## Očekivanje slučajne varijable

Ukoliko slučajna varijabla  $X$  poprima vrijednosti  $x_1, x_2, x_3, \dots, x_k, \dots$ , s pripadnim vjerojatnostima  $p_1, p_2, p_3, \dots, p_k, \dots$ . Njenu distribuciju često označavamo preko tablice distribucije:

$$X \sim \begin{pmatrix} x_1 & x_2 & \dots & x_k & \dots \\ p_1 & p_2 & \dots & p_k & \dots \end{pmatrix}.$$

**Očekivanje** slučajne varijable  $X$  je ponderirani prosjek vrijednosti koje  $X$  može poprimiti (gdje su koeficijenti, odnosno ponderi, pripadne vjerojatnosti tih vrijednosti):

$$\mathbf{E}(X) = \sum_i p_i x_i.$$

Ova vrijednost može biti i beskonačna (ili divergirati), ako imamo beskonačno mnogo mogućih vrijednosti za  $X$ .



## Očekivanje slučajne varijable i srednja vrijednost varijable - usporedba

Usporedimo formulu za očekivanje slučajne varijable s izrazom za srednju vrijednost varijable.

## Očekivanje slučajne varijable i srednja vrijednost varijable - usporedba

Usporedimo formulu za očekivanje slučajne varijable s izrazom za srednju vrijednost varijable.

Neka je dana varijabla koja poprima vrijednosti  $x_1, x_2, x_3, \dots, x_k$ . Dan nam je skup podataka koji mjeri tu varijablu gdje se pripadne vrijednosti pojavljuju s relativnim frekvencijama  $r_1, r_2, r_3, \dots, r_k$ . Podsjetimo se, tada je srednja vrijednost  $\bar{x}$  dana s

$$\bar{x} = \sum_i r_i x_i.$$

**Primjer.** Ukoliko kod bacanja novčića pismo označimo s 1 a glavu s 0, izračunajte očekivanje za slučajnu varijablu  $X$  definiranu kao ishod bacanja novčića.

**Primjer.** Ukoliko kod bacanja novčića pismo označimo s 1 a glavu s 0, izračunajte očekivanje za slučajnu varijablu  $X$  definiranu kao ishod bacanja novčića.

**Rješenje.** Moguće vrijednosti su 0 i 1, a pripadna distribucija vjerojatnosti jednaka je

$$X \sim \begin{pmatrix} 0 & 1 \\ 0.5 & 0.5 \end{pmatrix}.$$

**Primjer.** Ukoliko kod bacanja novčića pismo označimo s 1 a glavu s 0, izračunajte očekivanje za slučajnu varijablu  $X$  definiranu kao ishod bacanja novčića.

**Rješenje.** Moguće vrijednosti su 0 i 1, a pripadna distribucija vjerojatnosti jednaka je

$$X \sim \begin{pmatrix} 0 & 1 \\ 0.5 & 0.5 \end{pmatrix}.$$

$$\mathbf{E}(X) = \sum_i p_i x_i = 0.5 \cdot 1 + 0.5 \cdot 0 = 0.5.$$

**Primjer.** Izračunajte očekivanje za slučajnu varijablu  $X$  definiranu kao ishod bacanja igraće kocke.

**Primjer.** Izračunajte očekivanje za slučajnu varijablu  $X$  definiranu kao ishod bacanja igraće kocke.

**Rješenje.** Moguće vrijednosti su 1, 2, 3, 4, 5 i 6, a distribucija vjerojatnosti je

$$X \sim \left( \begin{array}{cccccc} 1 & 2 & 3 & 4 & 5 & 6 \\ \frac{1}{6} & \frac{1}{6} & \frac{1}{6} & \frac{1}{6} & \frac{1}{6} & \frac{1}{6} \end{array} \right).$$

**Primjer.** Izračunajte očekivanje za slučajnu varijablu  $X$  definiranu kao ishod bacanja igračice kocke.

**Rješenje.** Moguće vrijednosti su 1, 2, 3, 4, 5 i 6, a distribucija vjerojatnosti je

$$X \sim \left( \begin{array}{cccccc} 1 & 2 & 3 & 4 & 5 & 6 \\ \frac{1}{6} & \frac{1}{6} & \frac{1}{6} & \frac{1}{6} & \frac{1}{6} & \frac{1}{6} \end{array} \right).$$

$$\begin{aligned} \mathbf{E}(X) &= \sum_i p_i x_i = \\ &= 1 \cdot \frac{1}{6} + 2 \cdot \frac{1}{6} + 3 \cdot \frac{1}{6} + 4 \cdot \frac{1}{6} + 5 \cdot \frac{1}{6} + 6 \cdot \frac{1}{6} = \\ &= \frac{21}{6} = 3.5. \end{aligned}$$



## Svojstva očekivanja

### Uočite:

- Očekivanje ne treba biti jednako niti jednoj mogućoj vrijednosti slučajne varijable.

## Svojstva očekivanja

### Uočite:

- Očekivanje ne treba biti jednako niti jednoj mogućoj vrijednosti slučajne varijable.
- Očekivanje nije (ne treba biti) jednako najvjerojatnijoj vrijednosti.

## Svojstva očekivanja

### Uočite:

- Očekivanje ne treba biti jednako niti jednoj mogućoj vrijednosti slučajne varijable.
- Očekivanje nije (ne treba biti) jednako najvjerojatnijoj vrijednosti.

Ako su  $X$  i  $Y$  dvije slučajne varijable, onda je i  $X + Y$  također slučajna varijabla. Njeno očekivanje je

$$\mathbf{E}(X + Y) = \mathbf{E}(X) + \mathbf{E}(Y).$$

## Svojstva očekivanja

### Uočite:

- Očekivanje ne treba biti jednako niti jednoj mogućoj vrijednosti slučajne varijable.
- Očekivanje nije (ne treba biti) jednako najvjerojatnijoj vrijednosti.

Ako su  $X$  i  $Y$  dvije slučajne varijable, onda je i  $X + Y$  također slučajna varijabla. Njeno očekivanje je

$$\mathbf{E}(X + Y) = \mathbf{E}(X) + \mathbf{E}(Y).$$

Neka je  $c$  proizvoljna konstanta. Tada je i  $cX$  slučajna varijabla. Njeno očekivanje je

$$\mathbf{E}(cX) = c\mathbf{E}(X).$$

## Svojstva očekivanja

### Uočite:

- Očekivanje ne treba biti jednako niti jednoj mogućoj vrijednosti slučajne varijable.
- Očekivanje nije (ne treba biti) jednako najvjerojatnijoj vrijednosti.

Ako su  $X$  i  $Y$  dvije slučajne varijable, onda je i  $X + Y$  također slučajna varijabla. Njeno očekivanje je

$$\mathbf{E}(X + Y) = \mathbf{E}(X) + \mathbf{E}(Y).$$

Neka je  $c$  proizvoljna konstanta. Tada je i  $cX$  slučajna varijabla. Njeno očekivanje je

$$\mathbf{E}(cX) = c\mathbf{E}(X).$$

Uočite da je onda i  $aX + b$  slučajna varijabla, za konstante  $a$  i  $b$  (podsjetimo se linearne transformacije podataka!). Njeno očekivanje je

$$\mathbf{E}(aX + b) = a\mathbf{E}(X) + b.$$

**Primjer.** U kutiji se nalazi deset novčanica od 10 €, pet od 20 €, tri od 50 €, jedna od 100 € i jedna od 1000€. Igra se sastoji od toga da igrač za ulog od 200 € ima pravo slučajno izvući jednu novčanicu. Izračunajte očekivanje dobitka. Da li je igra pravedna?

**Primjer.** U kutiji se nalazi deset novčanica od 10 €, pet od 20 €, tri od 50 €, jedna od 100 € i jedna od 1000€. Igra se sastoji od toga da igrač za ulog od 200 € ima pravo slučajno izvući jednu novčanicu. Izračunajte očekivanje dobitka. Da li je igra pravedna?

**Napomena.** Igra je pravedna ukoliko je očekivanje dobitka 0. Ukoliko je očekivanje dobitka pozitivno, tada je igra u korist igrača, a ukoliko je očekivanje dobitka negativno tada je igra u korist organizatora (kuće).

**Primjer.** U kutiji se nalazi deset novčanica od 10 €, pet od 20 €, tri od 50 €, jedna od 100 € i jedna od 1000€. Igra se sastoji od toga da igrač za ulog od 200 € ima pravo slučajno izvući jednu novčanicu. Izračunajte očekivanje dobitka. Da li je igra pravedna?

**Napomena.** Igra je pravedna ukoliko je očekivanje dobitka 0. Ukoliko je očekivanje dobitka pozitivno, tada je igra u korist igrača, a ukoliko je očekivanje dobitka negativno tada je igra u korist organizatora (kuće).

**Rješenje.** Za iznos slučajno izvučene novčnice (slučajna varijabla  $X$ ) distribucija vjerojatnosti je dana u tablici:

Novčanica ( $x_i$ )	10	20	50	100	1000
$f_i$	10	5	3	1	1
$p_i$	0.50	0.25	0.15	0.05	0.05



Označimo iznos slučajno izvučene novčanice s  $X$  (slučajna varijabla).

$$X \sim \begin{pmatrix} 10 & 20 & 50 & 100 & 1000 \\ 0.5 & 0.25 & 0.15 & 0.05 & 0.05 \end{pmatrix}.$$

$$\begin{aligned} \mathbf{E}(X) &= \sum_i p_i x_i = \\ &= 0.50 \cdot 10 + 0.25 \cdot 20 + 0.15 \cdot 50 + 0.05 \cdot 100 + 0.05 \cdot 1000 = \\ &= \mathbf{72.50} \end{aligned}$$

Označimo iznos slučajno izvučene novčanice s  $X$  (slučajna varijabla).

$$X \sim \begin{pmatrix} 10 & 20 & 50 & 100 & 1000 \\ 0.5 & 0.25 & 0.15 & 0.05 & 0.05 \end{pmatrix}.$$

$$\begin{aligned} \mathbf{E}(X) &= \sum_i p_i x_i = \\ &= 0.50 \cdot 10 + 0.25 \cdot 20 + 0.15 \cdot 50 + 0.05 \cdot 100 + 0.05 \cdot 1000 = \\ &= \mathbf{72.50} \end{aligned}$$

Budući da je dobitak (označimo ga kao slučajna varijabla  $Y$ ) jednak iznosu izvučene novčanice umanjenom za ulog (200 €):

$$Y = X - 200,$$

Označimo iznos slučajno izvučene novčanice s  $X$  (slučajna varijabla).

$$X \sim \begin{pmatrix} 10 & 20 & 50 & 100 & 1000 \\ 0.5 & 0.25 & 0.15 & 0.05 & 0.05 \end{pmatrix}.$$

$$\begin{aligned} \mathbf{E}(X) &= \sum_i p_i x_i = \\ &= 0.50 \cdot 10 + 0.25 \cdot 20 + 0.15 \cdot 50 + 0.05 \cdot 100 + 0.05 \cdot 1000 = \\ &= \mathbf{72.50} \end{aligned}$$

Budući da je dobitak (označimo ga kao slučajna varijabla  $Y$ ) jednak iznosu izvučene novčanice umanjenom za ulog (200 €):

$$Y = X - 200,$$

vrijedi

$$\mathbf{E}(Y) = \mathbf{E}(X) - 200 =$$

Označimo iznos slučajno izvučene novčanice s  $X$  (slučajna varijabla).

$$X \sim \begin{pmatrix} 10 & 20 & 50 & 100 & 1000 \\ 0.5 & 0.25 & 0.15 & 0.05 & 0.05 \end{pmatrix}.$$

$$\begin{aligned} \mathbf{E}(X) &= \sum_i p_i x_i = \\ &= 0.50 \cdot 10 + 0.25 \cdot 20 + 0.15 \cdot 50 + 0.05 \cdot 100 + 0.05 \cdot 1000 = \\ &= \mathbf{72.50} \end{aligned}$$

Budući da je dobitak (označimo ga kao slučajna varijabla  $Y$ ) jednak iznosu izvučene novčanice umanjenom za ulog (200 €):

$$Y = X - 200,$$

vrijedi

$$\mathbf{E}(Y) = \mathbf{E}(X) - 200 = 72.50 - 200 = \mathbf{-127.50}.$$

Dakle, igra nije pravedna, već je u korist kuće.

## Varijanca slučajne varijable

Ukoliko slučajna varijabla  $X$  poprima vrijednosti  $x_1, x_2, x_3, \dots, x_k$ , s pripadnim vjerojatnostima  $p_1, p_2, p_3, \dots, p_k$ , **varijanca** slučajne varijable  $X$  je

$$\text{Var}(X) = \sum_i p_i (x_i - \mathbf{E}(X))^2$$

## Varijanca slučajne varijable

Ukoliko slučajna varijabla  $X$  poprima vrijednosti  $x_1, x_2, x_3, \dots, x_k$ , s pripadnim vjerojatnostima  $p_1, p_2, p_3, \dots, p_k$ , **varijanca** slučajne varijable  $X$  je

$$\text{Var}(X) = \sum_i p_i (x_i - \mathbf{E}(X))^2$$

Alternativna formula za varijancu

$$\text{Var}(X) = \sum_i p_i x_i^2 - [\mathbf{E}(X)]^2$$

## Varijanca slučajne varijable

Ukoliko slučajna varijabla  $X$  poprima vrijednosti  $x_1, x_2, x_3, \dots, x_k$ , s pripadnim vjerojatnostima  $p_1, p_2, p_3, \dots, p_k$ , **varijanca** slučajne varijable  $X$  je

$$\text{Var}(X) = \sum_i p_i (x_i - \mathbf{E}(X))^2$$

Alternativna formula za varijancu

$$\text{Var}(X) = \sum_i p_i x_i^2 - [\mathbf{E}(X)]^2$$

ili

$$\text{Var}(X) = \mathbf{E} \left[ (X - \mathbf{E}(X))^2 \right] = \mathbf{E}(X^2) - [\mathbf{E}(X)]^2$$

# Standardna devijacija

Standardna devijacija:

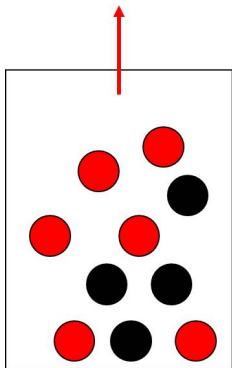
$$\sigma(X) = \sqrt{\text{Var}(X)}$$



# Standardna devijacija

Standardna devijacija:

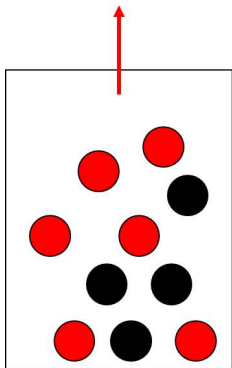
$$\sigma(X) = \sqrt{\text{Var}(X)} = \sqrt{\sum_i p_i (x_i - \mathbf{E}(X))^2}$$



**Primjer.** Izračunajte varijancu za slučajnu varijablu  $X$  definiranu s

1 - ako je izvučena crvena kuglica,

0 - ako nije izvučena crvena kuglica.



**Primjer.** Izračunajte varijancu za slučajnu varijablu  $X$  definiranu s

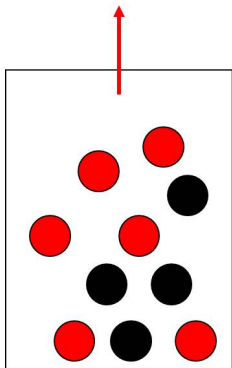
1 - ako je izvučena crvena kuglica,

0 - ako nije izvučena crvena kuglica.

**Rješenje.** Distribucija vjerojatnosti:

$x_i$	$p_i$
1	0.6
0	0.4

$$E(X) = 0.6$$



**Primjer.** Izračunajte varijancu za slučajnu varijablu  $X$  definiranu s

1 - ako je izvučena crvena kuglica,

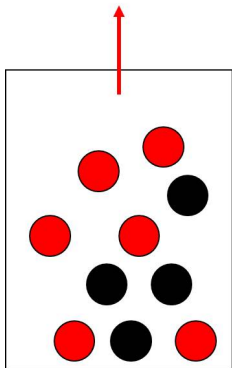
0 - ako nije izvučena crvena kuglica.

**Rješenje.** Distribucija vjerojatnosti:

$x_i$	$p_i$
1	0.6
0	0.4

$$\mathbf{E}(X) = 0.6$$

$$\text{Var}(X) = \sum_i p_i (x_i - \mathbf{E}(X))^2 =$$



**Primjer.** Izračunajte varijancu za slučajnu varijablu  $X$  definiranu s

1 - ako je izvučena crvena kuglica,

0 - ako nije izvučena crvena kuglica.

**Rješenje.** Distribucija vjerojatnosti:

$x_i$	$p_i$
1	0.6
0	0.4

$$\mathbf{E}(X) = 0.6$$

$$\begin{aligned} \text{Var}(X) &= \sum_i p_i (x_i - \mathbf{E}(X))^2 = \\ &= 0.6 \cdot (1 - 0.6)^2 + 0.4 \cdot (0 - 0.6)^2 = \\ &= 0.6 \cdot 0.4^2 + 0.4 \cdot 0.4^2 = \mathbf{0.24} \end{aligned}$$

**Primjer.** Ukoliko kod bacanja novčića pismo označimo s 1 a glavu s 0, izračunajte varijancu za slučajnu varijablu  $X$  definiranu kao ishod bacanja novčića.

**Primjer.** Ukoliko kod bacanja novčića pismo označimo s 1 a glavu s 0, izračunajte varijancu za slučajnu varijablu  $X$  definiranu kao ishod bacanja novčića.

**Rješenje.** Moguće vrijednosti su 0 i 1.  
Distribucija vjerojatnosti:

$x_i$	$p_i$
1	0.5
0	0.5

$$E(X) = 0.5$$

**Primjer.** Ukoliko kod bacanja novčića pismo označimo s 1 a glavu s 0, izračunajte varijancu za slučajnu varijablu  $X$  definiranu kao ishod bacanja novčića.

**Rješenje.** Moguće vrijednosti su 0 i 1.  
Distribucija vjerojatnosti:

$x_i$	$p_i$	$\mathbf{E}(X) = 0.5$
1	0.5	
0	0.5	

$$\text{Var}(X) = \sum_i p_i (x_i - \mathbf{E}(X))^2 =$$



**Primjer.** Ukoliko kod bacanja novčića pismo označimo s 1 a glavu s 0, izračunajte varijancu za slučajnu varijablu  $X$  definiranu kao ishod bacanja novčića.

**Rješenje.** Moguće vrijednosti su 0 i 1.  
Distribucija vjerojatnosti:

$x_i$	$p_i$
1	0.5
0	0.5

$$\mathbf{E}(X) = 0.5$$

$$\begin{aligned}\text{Var}(X) &= \sum_i p_i (x_i - \mathbf{E}(X))^2 = \\ &= 0.5 \cdot (1 - 0.5)^2 + 0.5 \cdot (0 - 0.5)^2 = \\ &= 0.5 \cdot 0.5^2 + 0.5 \cdot 0.5^2 = \mathbf{0.25}\end{aligned}$$

**Primjer.** Izračunajte varijancu za slučajnu varijablu  $X$  definiranu kao ishod bacanja igraće kocke.

**Primjer.** Izračunajte varijancu za slučajnu varijablu  $X$  definiranu kao ishod bacanja igraće kocke.

**Rješenje.** Moguće vrijednosti su 1, 2, 3, 4, 5 i 6.  
Distribucija vjerojatnosti:

$x_i$	$p_i$
1	$\frac{1}{6}$
2	$\frac{1}{6}$
3	$\frac{1}{6}$
4	$\frac{1}{6}$
5	$\frac{1}{6}$
6	$\frac{1}{6}$

**Primjer.** Izračunajte varijancu za slučajnu varijablu  $X$  definiranu kao ishod bacanja igraće kocke.

**Rješenje.** Moguće vrijednosti su 1, 2, 3, 4, 5 i 6.  
Distribucija vjerojatnosti:

$x_i$	$p_i$
1	$\frac{1}{6}$
2	$\frac{1}{6}$
3	$\frac{1}{6}$
4	$\frac{1}{6}$
5	$\frac{1}{6}$
6	$\frac{1}{6}$

$E(X) = 3.5$

**Primjer.** Izračunajte varijancu za slučajnu varijablu  $X$  definiranu kao ishod bacanja igračice kocke.

**Rješenje.** Moguće vrijednosti su 1, 2, 3, 4, 5 i 6.  
Distribucija vjerojatnosti:

$x_i$	$p_i$	$\mathbf{E}(X) = 3.5$
1	$\frac{1}{6}$	$\mathbf{Var}(X) = \sum_i p_i (x_i - \mathbf{E}(X))^2 =$
2	$\frac{1}{6}$	
3	$\frac{1}{6}$	
4	$\frac{1}{6}$	
5	$\frac{1}{6}$	
6	$\frac{1}{6}$	

**Primjer.** Izračunajte varijancu za slučajnu varijablu  $X$  definiranu kao ishod bacanja igraće kocke.

**Rješenje.** Moguće vrijednosti su 1, 2, 3, 4, 5 i 6.  
Distribucija vjerojatnosti:

$x_i$	$p_i$
1	$\frac{1}{6}$
2	$\frac{1}{6}$
3	$\frac{1}{6}$
4	$\frac{1}{6}$
5	$\frac{1}{6}$
6	$\frac{1}{6}$

$$\mathbf{E}(X) = 3.5$$

$$\begin{aligned} \text{Var}(X) &= \sum_i p_i (x_i - \mathbf{E}(X))^2 = \\ &= \frac{1}{6} \cdot (1 - 3.5)^2 + \frac{1}{6} \cdot (2 - 3.5)^2 + \frac{1}{6} \cdot (3 - 3.5)^2 + \\ &\quad + \frac{1}{6} \cdot (4 - 3.5)^2 + \frac{1}{6} \cdot (5 - 3.5)^2 + \frac{1}{6} \cdot (6 - 3.5)^2 = \end{aligned}$$

**Primjer.** Izračunajte varijancu za slučajnu varijablu  $X$  definiranu kao ishod bacanja igraće kocke.

**Rješenje.** Moguće vrijednosti su 1, 2, 3, 4, 5 i 6.  
Distribucija vjerojatnosti:

$x_i$	$p_i$
1	$\frac{1}{6}$
2	$\frac{1}{6}$
3	$\frac{1}{6}$
4	$\frac{1}{6}$
5	$\frac{1}{6}$
6	$\frac{1}{6}$

$$\mathbf{E}(X) = 3.5$$

$$\begin{aligned} \text{Var}(X) &= \sum_i p_i (x_i - \mathbf{E}(X))^2 = \\ &= \frac{1}{6} \cdot (1 - 3.5)^2 + \frac{1}{6} \cdot (2 - 3.5)^2 + \frac{1}{6} \cdot (3 - 3.5)^2 + \\ &\quad + \frac{1}{6} \cdot (4 - 3.5)^2 + \frac{1}{6} \cdot (5 - 3.5)^2 + \frac{1}{6} \cdot (6 - 3.5)^2 = \\ &= \frac{17.5}{6} = \mathbf{2.92}. \end{aligned}$$

**Primjer.** Distribucija vjerojatnosti za broj jednodnevnih izleta gorskog vodiča tijekom tjedna prikazana je u tablici. Izračunajte očekivanje, varijancu i standardnu devijaciju.

Broj izleta ( $x_i$ )	2	3	4	5	6
$p_i$	0.30	0.40	0.20	0.05	0.05



**Primjer.** Distribucija vjerojatnosti za broj jednodnevnih izleta gorskog vodiča tijekom tjedna prikazana je u tablici. Izračunajte očekivanje, varijancu i standardnu devijaciju.

Broj izleta ( $x_i$ )	2	3	4	5	6
$p_i$	0.30	0.40	0.20	0.05	0.05

**Rješenje.**

$$E(X) = \sum_i p_i x_i =$$

**Primjer.** Distribucija vjerojatnosti za broj jednodnevnih izleta gorskog vodiča tijekom tjedna prikazana je u tablici. Izračunajte očekivanje, varijancu i standardnu devijaciju.

Broj izleta ( $x_i$ )	2	3	4	5	6
$p_i$	0.30	0.40	0.20	0.05	0.05

**Rješenje.**

$$E(X) = \sum_i p_i x_i = 0.30 \cdot 2 + 0.40 \cdot 3 + 0.20 \cdot 4 + 0.05 \cdot 5 + 0.05 \cdot 6 = 3.15$$

**Primjer.** Distribucija vjerojatnosti za broj jednodnevnih izleta gorskog vodiča tijekom tjedna prikazana je u tablici. Izračunajte očekivanje, varijancu i standardnu devijaciju.

Broj izleta ( $x_i$ )	2	3	4	5	6
$p_i$	0.30	0.40	0.20	0.05	0.05

**Rješenje.**

$$\mathbf{E}(X) = \sum_i p_i x_i = 0.30 \cdot 2 + 0.40 \cdot 3 + 0.20 \cdot 4 + 0.05 \cdot 5 + 0.05 \cdot 6 = \mathbf{3.15}$$

$$\text{Var}(X) = \sum_i p_i (x_i - \mathbf{E}(X))^2 =$$

**Primjer.** Distribucija vjerojatnosti za broj jednodnevnih izleta gorskog vodiča tijekom tjedna prikazana je u tablici. Izračunajte očekivanje, varijancu i standardnu devijaciju.

Broj izleta ( $x_i$ )	2	3	4	5	6
$p_i$	0.30	0.40	0.20	0.05	0.05

**Rješenje.**

$$\mathbf{E}(X) = \sum_i p_i x_i = 0.30 \cdot 2 + 0.40 \cdot 3 + 0.20 \cdot 4 + 0.05 \cdot 5 + 0.05 \cdot 6 = \mathbf{3.15}$$

$$\begin{aligned} \text{Var}(X) &= \sum_i p_i (x_i - \mathbf{E}(X))^2 = \\ &= 0.30 \cdot (2 - 3.15)^2 + 0.40 \cdot (3 - 3.15)^2 + 0.20 \cdot (4 - 3.15)^2 + \\ &\quad + 0.05 \cdot (5 - 3.15)^2 + 0.05 \cdot (6 - 3.15)^2 = \mathbf{1.13} \end{aligned}$$

**Primjer.** Distribucija vjerojatnosti za broj jednodnevnih izleta gorskog vodiča tijekom tjedna prikazana je u tablici. Izračunajte očekivanje, varijancu i standardnu devijaciju.

Broj izleta ( $x_i$ )	2	3	4	5	6
$p_i$	0.30	0.40	0.20	0.05	0.05

**Rješenje.**

$$\mathbf{E}(X) = \sum_i p_i x_i = 0.30 \cdot 2 + 0.40 \cdot 3 + 0.20 \cdot 4 + 0.05 \cdot 5 + 0.05 \cdot 6 = \mathbf{3.15}$$

$$\begin{aligned} \text{Var}(X) &= \sum_i p_i (x_i - \mathbf{E}(X))^2 = \\ &= 0.30 \cdot (2 - 3.15)^2 + 0.40 \cdot (3 - 3.15)^2 + 0.20 \cdot (4 - 3.15)^2 + \\ &\quad + 0.05 \cdot (5 - 3.15)^2 + 0.05 \cdot (6 - 3.15)^2 = \mathbf{1.13} \end{aligned}$$

$$\sigma(X) = \sqrt{\text{Var}(X)} = \sqrt{1.13} = \mathbf{1.06}$$

## Linearna transformacija slučajne varijable

Neka je varijabla  $Y$  dana s:

$$Y = aX + b.$$

Tada je

$$\begin{aligned}\mathbf{E}Y &= a\mathbf{E}X + b \\ \text{Var}Y &= a^2\text{Var}X \\ \sigma(Y) &= |a|\sigma(X)\end{aligned}$$

**Primjer.** Ukoliko kod bacanja novčića pojavljivanje pisma označimo s 2 a pojavljivanje glave s 1, odredite očekivanje i varijancu ovako definirane slučajne varijable.

**Primjer.** Ukoliko kod bacanja novčića pojavljivanje pisma označimo s 2 a pojavljivanje glave s 1, odredite očekivanje i varijancu ovako definirane slučajne varijable.

**Rješenje.** U prijašnjem primjeru smo pokazali da za slučajnu varijablu ( $X$ ) dobivenu tako da smo pismo označili s 1 a glavu s 0 vrijedi

$$\begin{aligned} \mathbf{E}X &= 0.5 \\ \mathbf{Var}X &= 0.25 \end{aligned}$$



**Primjer.** Ukoliko kod bacanja novčića pojavljivanje pisma označimo s 2 a pojavljivanje glave s 1, odredite očekivanje i varijancu ovako definirane slučajne varijable.

**Rješenje.** U prijašnjem primjeru smo pokazali da za slučajnu varijablu ( $X$ ) dobivenu tako da smo pismo označili s 1 a glavu s 0 vrijedi

$$EX = 0.5$$

$$\text{Var}X = 0.25$$

Ukoliko slučajnu varijablu iz zadatka označimo s  $Y$ , tada je

$$Y = X + 1.$$

**Primjer.** Ukoliko kod bacanja novčića pojavljivanje pisma označimo s 2 a pojavljivanje glave s 1, odredite očekivanje i varijancu ovako definirane slučajne varijable.

**Rješenje.** U prijašnjem primjeru smo pokazali da za slučajnu varijablu ( $X$ ) dobivenu tako da smo pismo označili s 1 a glavu s 0 vrijedi

$$\mathbf{EX} = 0.5$$

$$\mathbf{Var}X = 0.25$$

Ukoliko slučajnu varijablu iz zadatka označimo s  $Y$ , tada je

$$Y = X + 1.$$

Tada je

$$\mathbf{E}Y = \mathbf{E}X + 1 =$$

**Primjer.** Ukoliko kod bacanja novčića pojavljivanje pisma označimo s 2 a pojavljivanje glave s 1, odredite očekivanje i varijancu ovako definirane slučajne varijable.

**Rješenje.** U prijašnjem primjeru smo pokazali da za slučajnu varijablu ( $X$ ) dobivenu tako da smo pismo označili s 1 a glavu s 0 vrijedi

$$\mathbf{E}X = 0.5$$

$$\text{Var}X = 0.25$$

Ukoliko slučajnu varijablu iz zadatka označimo s  $Y$ , tada je

$$Y = X + 1.$$

Tada je

$$\mathbf{E}Y = \mathbf{E}X + 1 = 0.5 + 1 = 1.5$$

$$\text{Var}Y = \text{Var}X$$

**Primjer.** Ukoliko kod bacanja novčića pojavljivanje pisma označimo s 2 a pojavljivanje glave s 1, odredite očekivanje i varijancu ovako definirane slučajne varijable.

**Rješenje.** U prijašnjem primjeru smo pokazali da za slučajnu varijablu ( $X$ ) dobivenu tako da smo pismo označili s 1 a glavu s 0 vrijedi

$$\begin{aligned}\mathbf{E}X &= 0.5 \\ \text{Var}X &= 0.25\end{aligned}$$

Ukoliko slučajnu varijablu iz zadatka označimo s  $Y$ , tada je

$$Y = X + 1.$$

Tada je

$$\begin{aligned}\mathbf{E}Y &= \mathbf{E}X + 1 = 0.5 + 1 = 1.5 \\ \text{Var}Y &= \text{Var}X = 0.25 \\ \sigma(Y) &= \sqrt{\text{Var}Y} =\end{aligned}$$

**Primjer.** Ukoliko kod bacanja novčića pojavljivanje pisma označimo s 2 a pojavljivanje glave s 1, odredite očekivanje i varijancu ovako definirane slučajne varijable.

**Rješenje.** U prijašnjem primjeru smo pokazali da za slučajnu varijablu ( $X$ ) dobivenu tako da smo pismo označili s 1 a glavu s 0 vrijedi

$$\mathbf{E}X = 0.5$$

$$\text{Var}X = 0.25$$

Ukoliko slučajnu varijablu iz zadatka označimo s  $Y$ , tada je

$$Y = X + 1.$$

Tada je

$$\mathbf{E}Y = \mathbf{E}X + 1 = 0.5 + 1 = 1.5$$

$$\text{Var}Y = \text{Var}X = 0.25$$

$$\sigma(Y) = \sqrt{\text{Var}Y} = \sqrt{0.25} = 0.5$$